

۱- قبل و بعد اعداد زیر را بنویس.

_____ ۲۲۹ _____

_____ شصت و نه _____

_____ ۶۱۱ _____

_____ هفتصد و یک _____

۲- جمع و تفریق‌های زیر را انجام بده.

$70 + 20 = \underline{\hspace{2cm}}$

$14 + 8 = \underline{\hspace{2cm}}$

$90 - 40 = \underline{\hspace{2cm}}$

$28 + 9 = \underline{\hspace{2cm}}$

۳- در شمارش ۶ تا ۶ تا، بعد از عدد ۱۸ کدام عدد است؟

۴- مرتضی برای چراغانی جشن تیمه شعبان ۴۶ لامپ رنگی استفاده کرد، ۲۹ تا قرمز و بقیه آبی، چند لامپ آبی بود؟

۵- نرگس و ۷ نفر دیگر از دوستانش در کلاس بودند، ۴ نفر دیگر به کلاس آمدند. و ۳ نفر خارج شدند. حالا چند نفر در کلاس هستند؟

۶- اعداد داخل دایره به کدام یک از اعداد داخل مربع نزدیکتر است؟ رنگ کن.



۷- جمله‌های درست را با علامت × مشخص کن.

- در چندضلعی‌ها تعداد گوشه‌ها با تعداد ضلع‌ها برابر است.

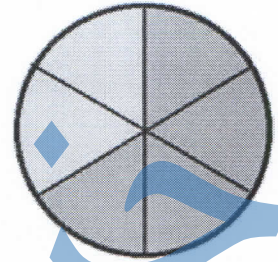
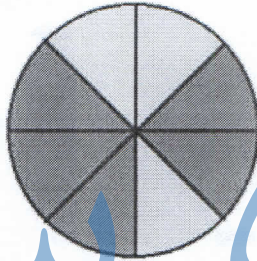
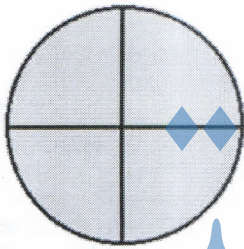
- مستطیل ۴ ضلع مساوی دارد.

- مثلث ۳ ضلع مساوی دارد.

- مربع ۴ گوشه دارد.



۸- در هر هدف احتمال برخورد تیر به رنگ‌ها را بنویس.



احتمال بیشتر:

احتمال بیشتر:

احتمال بیشتر:

احتمال کمتر:

احتمال کمتر:

احتمال کمتر:

۹- مینا ۱۴ سال و خواهرش سیمین ۲۰ سال دارد. این دو نفر با هم چند سال دارند؟ آیا می‌دانید ۱۰ سال پیش این دو

خواهر چند سال داشته‌اند؟



۱۰- باز شدیدی اعداد زیر را بنویس.

$$۴۵۲ = \underline{\quad\quad\quad} + \underline{\quad\quad\quad} + \underline{\quad\quad\quad}$$

$$۲۵۴ = \underline{\quad\quad\quad} + \underline{\quad\quad\quad} + \underline{\quad\quad\quad}$$

$$۷۹۰ = \underline{\quad\quad\quad} + \underline{\quad\quad\quad}$$

$$۶۰۶۰ = \underline{\quad\quad\quad} + \underline{\quad\quad\quad}$$

۱۱- به سوال‌های زیر پاسخ بده.

۳۰ دقیقه بعد از ساعت ۱۲ چه ساعتی است؟


۱۰ دقیقه بعد از ساعت ۴:۲۰ چه ساعتی است؟

یک ربع بعد از ساعت ۵:۱۵ چه ساعتی است؟

۱۲- یک عدد دورقمی بنویس که رقم یکان آن کوچکترین عدد زوج یک رقمی و رقم دهگان آن بزرگترین عدد فرد یک رقمی می باشد؟

۱۳- برای شکل های زیر جمع یا تفریق بنویس.

(الف)

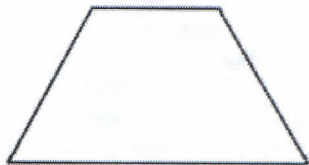


(ب)




جزوه سیتی

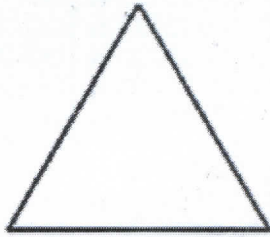
۱۴- با توجه به کسرهای نوشته شده، هر شکل را به قسمت های مساوی تقسیم کن و رنگ بزن.




۲ قسمت از ۳ قسمت مساوی



۵ قسمت از ۸ قسمت مساوی



۱ قسمت از ۴ قسمت مساوی



۱ قسمت از ۲ قسمت مساوی

۱۵- در هفته‌ی گذشته سارا ۳ صفحه از کتاب ریاضی، ۲ صفحه از کتاب علوم و ۴ صفحه از کتاب فارسی را مطالعه کرده است. نمودارهای مربوط به مطالعه‌ی سارا را در هفته‌ی گذشته با رنگ کردن بخش‌های مختلف کامل کن.

